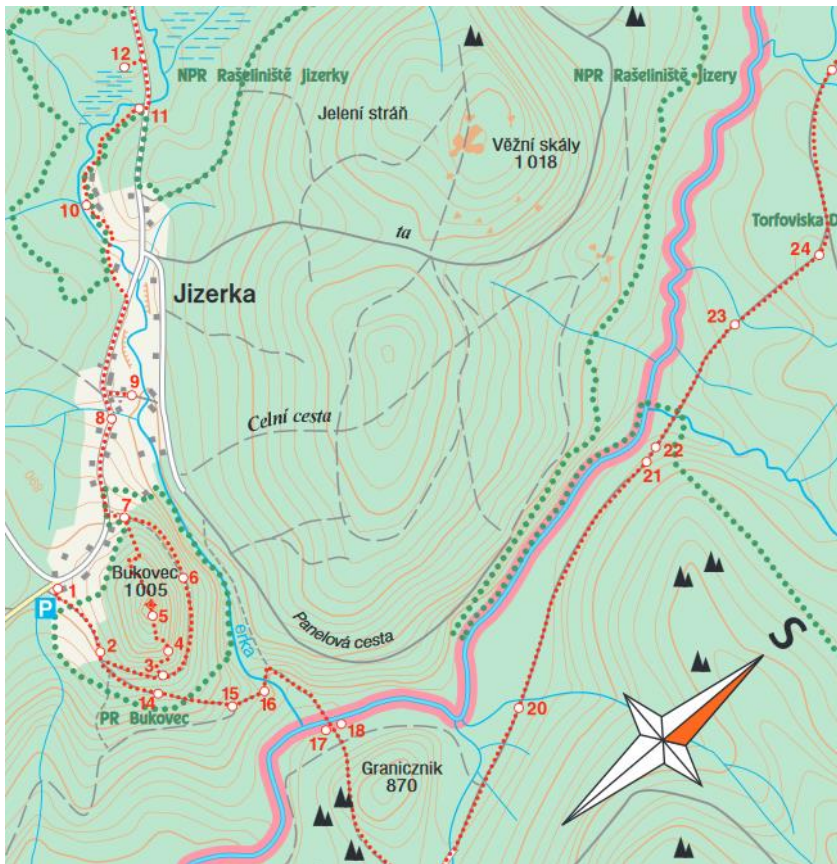


1. Poloha práce s mapou – v mapě vyznač – doplň, co pojem znamená



- Jizerka -

- Bukovec -

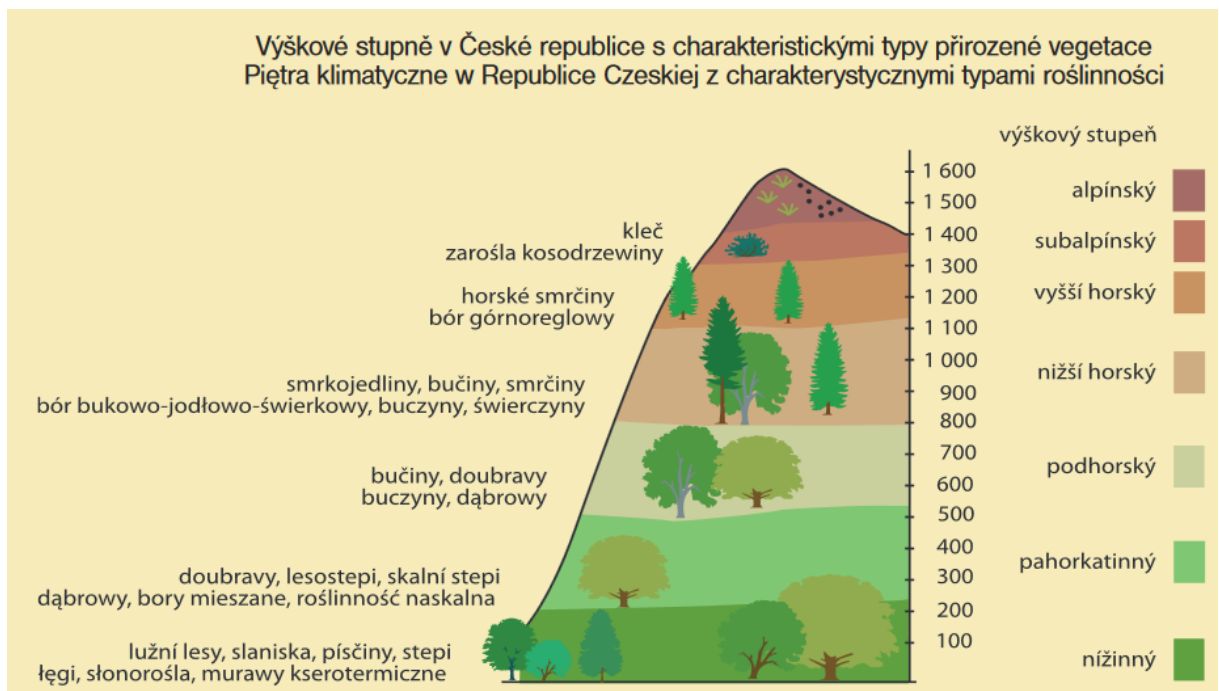
- Rašeliniště Jizerky -

2. Pralouka – poznáš rostliny



3. Bukovec

4. Výškové stupně v ČR



5. Doplně:

Nadmořská výška Bukovce je _____.

Které další vrcholy můžeme vidět?

6. Jaké zvíře je na informační tabuli?

7. Poznáš ptactvo



8. Jizerka – Doplně text

První písemné zprávy o Jizerce, jedné z _____
položených osad v severních Čechách, pocházejí z roku _____,
kdy byla sezónním obydlím čihařů. Dnešní jméno je překladem původního
_____ názvu Klein Iser. V roce 1796 měla Jizerka
pouze sedm domů dřevorubců a pastevců. Převratné změny v životě osady
nastaly až v 19.století, když zde Franz Anton Riedel založil v roce 1828
_____ .



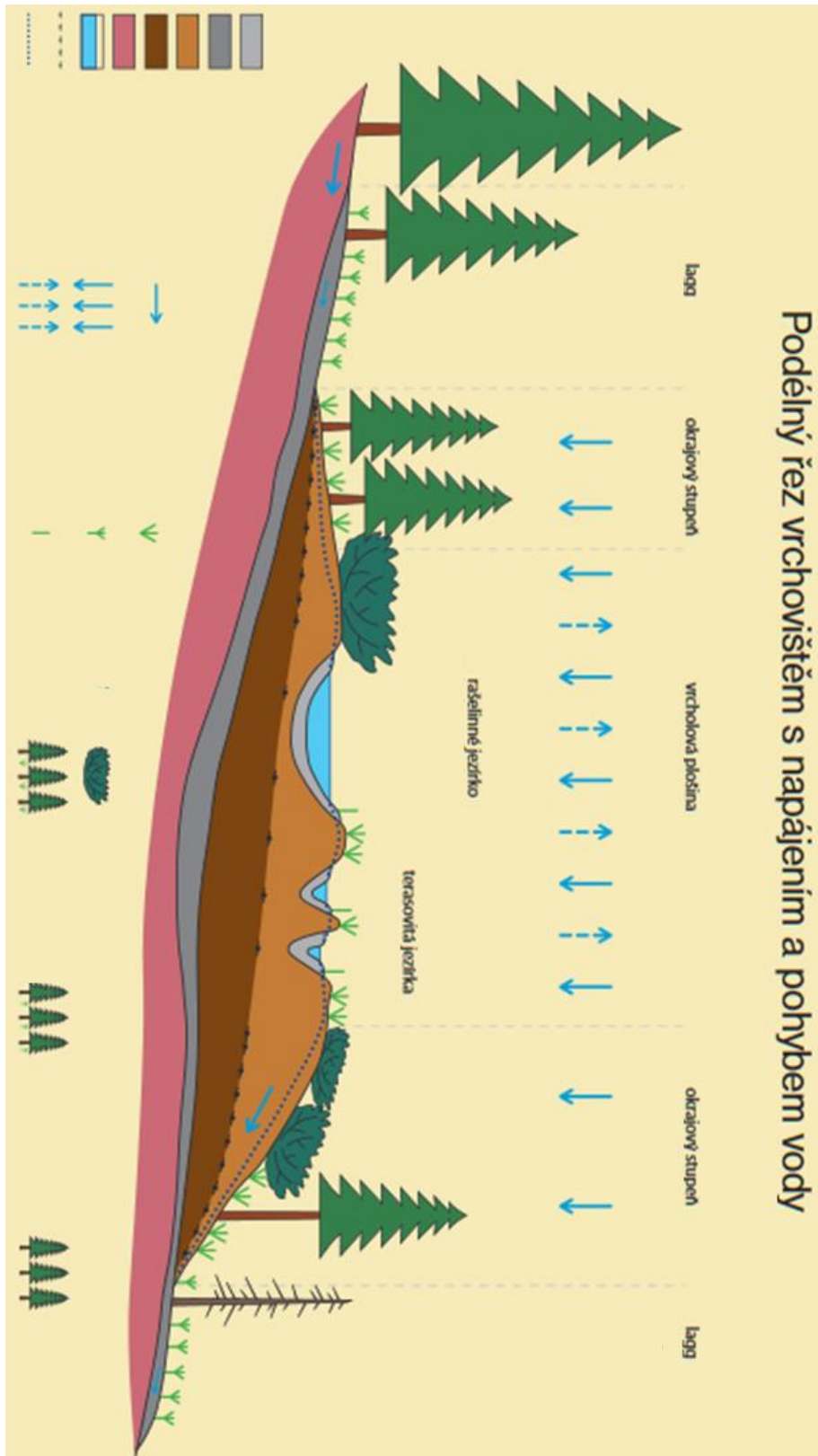
9. Muzeum Jizerských hor.

Kolik zde žilo v roce 1889? _____

10. Safírový potok – poznej nerosty



11. Rašeliště Jizerky



12 . Vylušti, co Tě čeká

XXX	1	2	3	4	5	6	7	8	9
I			S			L			A
II		D			K				
III	Á			O					
IV		D						M	
V			Ě						
VI					N				
VII				A					

Nápověda:

I3, I6, I9, II2, II5, III1 ----- III4, IV2, IV8, V3, VI5, VII4

Tajenka:

☺ KONEC.